

456



ВСЕРОССИЙСКАЯ ОЛИМПИАДА ШКОЛЬНИКОВ 2022/23 гг.  
ШКОЛЬНЫЙ ЭТАП

ИСТОРИЯ  
11 КЛАСС

Шифр участника 419

Задания для обучающихся.

Время выполнения - 90 мин.

Максимальный балл – 100

**Задание 1. Напишите пропущенный термин (понятие). Ответом может быть как одно слово, так и словосочетание (10 баллов – 1 балл за ответ):**

1. Восточнославянское племя, восставшее против повторного сбора дани князем Игорем? Восточные славяне 1
2. Бог являвшийся покровителем скота и скотоводства и восточных славян? Велес 1
3. Часть города или поселение в целом, население которого было освобождено от уплаты налогов. слобода 1
4. Название общины в Древней Руси? вервь 1
5. Автор «Слова о законе и благодати»? Иларион Киевский 1
6. Кругок друзей Ивана IV фактически являвшийся правительством страны в начале его правления? Шуринская Рада 1
7. Натуральный налог с народов Поволжья, Русского Севера и Сибири преимущественно пушниной? Ясак 1
8. Таблица, структурирующая чины государственной службы введённая Петром Первым? 0
9. По реформе П.А. Столыпина участок земли после выхода крестьянина из общины, с переносом усадьбы владельца? отруб 0
10. Международная организация, образованная в 1920 году для организации системы коллективной безопасности и решения споров между государствами дипломатическим путём? Лига Наций 1

**Задание 2. Установите соответствие русских правителей и событий из Отечественной истории** За полностью правильный ответ 2 балла, одна любая ошибка 1 балл, две и более ошибок – 0 баллов.

1	Княгиня Ольга	А	Созыв Уложенной Комиссии
2	Ярослав Мудрый	Б	Отмена местничества
3	Борис Годунов	В	Упорядочение сбора дани
4	Михаил Федорович	Г	Восстание Хлопка

ИСТОРИЯ  
11 КЛАСС

5	Федор Алексеевич	Д	Издание Русской Правды
6	Екатерина Вторая	Е	Поляновский мир

Ответ:

1	2	3	4	5	6
В	Д	Г	Е	Б	А

2

**Задание 3. Заполните пропуски** За полностью правильный ответ 2 балла, одна любая ошибка 1 балл, две и более ошибок – 0 баллов.

Географический объект	Событие	Время, когда произошло событие
1	Присоединение к Московскому княжеству	1480-е гг.
Варшава	Антироссийское восстание	2
Оренбург	3	1770-е гг.

Ответ:

1	2	3
Ковчег	1863	

0

**Задание 4. Расставьте эти произведения в соответствии с хронологией описываемых событий. Ответ запишите в виде последовательности цифр.** За полностью правильный ответ 2 балла, одна любая ошибка 1 балл, две и более ошибок – 0 баллов.

1. «Слово о полку Игореве».
2. «Капитанская дочка».
3. «Тихий Дон».
4. «Война и мир».
5. «Житие протопопы Аввакума».
6. «Песнь о Роланде»

Ответ:

615243

2

**Задание 5. Какие суждения о данной марке являются верными? Выберите три суждения из пяти предложенных. Запишите цифры, под которыми они указаны.** (6 баллов, По 2 балла за каждый правильный ответ):



- 1) Данная марка была выпущена в 1960-х гг.
- 2) Инициатором события, которому посвящена марка, был Б. М. Хмельницкий.
- 3) Событие, изображенное на марке, происходило в Москве.
- 4) Последствием события, которому посвящена марка, стала Смоленская война.
- 5) В год выпуска данной марки часть территории РСФСР была передана Украинской ССР.
- 6) Царь, в правление которого происходили эти события, получил прозвище «Тишайший».

Ответ: 35

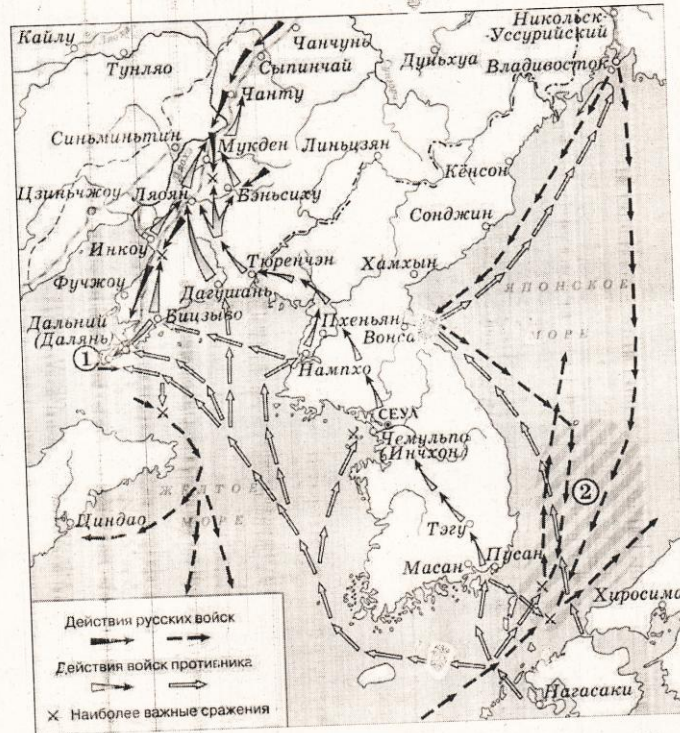
**Задание 6. Рассмотрите схему и выполните задания (6 баллов. По 1 баллу за каждый верный ответ):**

1. Укажите имя правителя России во время войны, события которой обозначены на схеме. \_\_\_\_\_

2. Укажите название города, обозначенного на схеме цифрой «1» \_\_\_\_\_

3. Укажите название сражения, обозначенного на схеме цифрой «2». \_\_\_\_\_

ИСТОРИЯ  
11 КЛАСС



4. Какие суждения, относящиеся к исторической ситуации, обозначенной на схеме, являются верными? Выберите три суждения из шести предложенных:

- А) В сражении, обозначенном цифрой «2», победу одержала эскадра Рожественского.
- Б) Город, обозначенный цифрой «1», не оказал сопротивления врагу.
- В) Договор о мире между воюющими странами был заключён при посредничестве США.
- Г) Сухопутными войсками командовал генерал Куропаткин.
- Д) Во время боевых действий погиб художник-баталист Верещагин.
- Е) По условиям заключённого мира Россия уступила Северный Сахалин.

Ответ: \_\_\_\_\_

Задание 7. Прочитайте текст (фрагмента выступления) и выполните задания после него (9 баллов):

Из исторического документа

[1] Помещичья собственность на землю отменяется немедленно без всякого выкупа.

2) Помещичьи имения, равно как все земли удельные, монастырские, церковные, со всем их живым и мёртвым инвентарём, усадьбами, постройками и всеми принадлежностями, переходят в распоряжение Волостных Земельных Комитетов и Уездных Советов Крестьянских Депутатов <sup>и</sup> впредь до разрешения Учредительным Собранием... <...>

4) Для руководства по осуществлению великих земельных преобразований, впредь до окончательного их решения Учредительным Собранием, должен повсюду служить следующий крестьянский наказ, составленный на основании 242 местных крестьянских наказов редакцией "Известий Всероссийского Совета крестьянских депутатов". <...>

Право частной собственности на землю отменяется навсегда; земля не может быть ни продаваема, ни покупаема, ни сдаваема в аренду либо в залог, ни каким-либо другим способом отчуждаема. Вся земля: государственная, удельная, кабинетская, монастырская, церковная, посессионная, майоратная, частновладельческая, общественная и крестьянская и т. д., отчуждается безвозмездно, обращается в всенародное достояние и переходит в пользование всех трудящихся на ней. <...>

Все недра земли, руда, нефть, уголь, соль и т. д., а также леса и воды, имеющие общегосударственное значение, переходят в исключительное пользование государства. <...>

Весь хозяйственный инвентарь конфискованных земель, живой и мёртвый, переходит в исключительное пользование государства или общины, в зависимости от величины и значения их, без выкупа. Конфискация инвентаря не касается малоземельных крестьян. <...>

Землепользование должно быть уравнительным, т. е. земля распределяется между трудящимися, смотря по местным условиям по трудовой или потребительной норме. <...>

Земельный фонд подвергается периодическим переделам в зависимости от прироста населения...

Все содержащееся в этом наказе, как выражение безусловной воли огромного большинства сознательных крестьян всей России, объявляется временным законом, который впредь до Учредительного Собрания проводится в жизнь по возможности немедленно...]

А) Когда (укажите месяц и год) и при каких обстоятельствах происходило оглашение этого документа? (1 балл за верное указание) Укажите название документа (1 балл). Декрет о земле 26 октября 1917 1

Б) Используя текст, укажите способы (не менее двух), которыми предполагалось решить земельный вопрос в России (1 балл). Укажите партию, земельная программа которой была использовалась при создании этого документа (2 балла за правильно указанную партию). Земельная аграрная программа 2

В) Какие идеи были положены в основу этого документа? Какой тип развития сельского хозяйства вытекал из предложенных положений? (максимум 3 балла) 0

Задание 8. Перед вами фрагмент текста. Прочитайте его и выполните задания.  
Ответ запишите (10 баллов):

Из сочинения историка Н. М. Карамзина

«...Иван III принадлежит к числу весьма немногих государей, избираемых провидением решить надолго судьбу народов: он есть герой не только российской, но и всемирной истории... Иоанн явился на театре политическом в то время, когда новая государственная система вместе с новым могуществом государей возникла в целой Европе. Россия около трёх веков находилась вне круга европейской политической деятельности. Хотя ничто не делается в...; хотя достохвальные усилия князей

**ИСТОРИЯ**  
**11 КЛАСС**

московских, от Калиты до Василия Тёмного, многое приготовили для единовластия и нашего внутреннего могущества, но

Россия при Иоанне III как бы вышла из сумрака теней... Иоанн, рождённый и воспитанный данником степной Орды... сделался одним из знаменитейших государей в Европе; без учения, без наставлений, руководствуемый только природным умом... силою и хитростью восстанавливая свободу и целостность России, губя царство Батыево, тесня... Литву, сокрушая вольность новгородскую, захватывая уделы, расширяя владения московские...

Что оставил миру Александр Македонский? – Славу. Иоанн оставил государство, удивительное пространством, сильное народами, ещё сильнее духом правления. Россия Олегова, Владимирова, Ярославова погибла в нашествии монголов. Россия нынешняя образована Иоанном».

А) Укажите хронологические рамки периода правления Ивана III (1 балл). Почему Россия около трёх веков находилась вне круга европейской политической деятельности? (2 балла за верное обоснование). 1462 по 1505 10

Б) С какими двумя важнейшими процессами в истории российской государственности совпало княжение Иван III? (3 балла за два верно указанных процесса). 1) «жюльские ковки»  
2) «восстановление свободы и целостности Руси» 15

В) Какие события имел в виду историк, говоря о сокрушении «вольности новгородской» и гибели «царства Батыева»? Укажите не менее двух событий. Ответ поясните (По 2 балла за каждое событие с пояснением). 1) Битва на реке Шелони  
2) восшествие Кочерева в санов Момовичи  
3) «сожжение на реке Угре» 25

Задание 9. Заполните пустые ячейки таблицы, используя представленные в приведённом ниже списке данные. Для каждой ячейки, обозначенной буквами, выберите номер нужного элемента. (6 баллов, по одному баллу за каждый верный ответ)

ИСТОРИЯ  
11 КЛАСС

Принадлежность к партии	Лидер	Положение программы
-----А	-----Б	Социализация земли
-----В	П.Н. Милоков	Зависимость исполнительной власти от законодательной
Октябристы	-----Г	-----Д
-----Е	В.И. Ленин	Конфискация всех помещичьих земель

1. Кадеты
2. Эсеры
3. Большевики
4. Меньшевики
5. А.И. Гучков
6. В.М. Чернов
7. А.И. Дубровин
8. Сохранение исполнительной власти в руках монарха
9. Право наций на самоопределение вплоть до отделения.

А	Б	В	Г	Д	Е
2	6	1	5	9	3

**Задание 10. Проведите анализ карты и ответьте на вопросы (10 баллов. По 2 балла за каждый правильный ответ):**

А) Укажите название населённого пункта, обозначенного на схеме цифрой «2», у которого произошло крупнейшее танковое сражение войны. Арохоробая

Б) Укажите год, когда завершилось сражение, обозначенное на схеме цифрой «1».

1943 год

В) Укажите название города, обозначенного цифрой «7», который будет освобождён Красной армией в ходе операции «Багратион». Белорусско

Г) Укажите цифру, которой обозначена на карте Москва. 3

Д) Напишите год полного снятия блокады с города, обозначенного цифрой «5».

1944



ИСТОРИЯ  
11 КЛАСС

ИСТОРИЯ  
11 КЛАСС

Задание 11. Внимательно изучите предложенные Вам фотографии. Какие из представленных памятников были созданы в XIX веке (3 балла за полностью верный ответ).

А




Б



В



Г







Ответ:

Б В А

0

ИСТОРИЯ  
11 КЛАСС

Задание 12. Вам представлены старые фотографии различных архитектурных объектов и памятников города Омска. Напишите их названия (10 баллов. По 1 баллу за каждый верный ответ)



**Темы сочинения:**

1. Влияние Золотой Орды на развитие Древней Руси в XIII-XV вв.
  2. Петровские реформы и их оценка историками и современниками.
  3. Отечественная война 1812 года и ее влияние на развитие России в первой половине XIX века.
  4. Великие реформы 1860-1870-х годов и их противоречия.
  5. Индустриализация СССР и её роль в победе в Великой Отечественной войне.
- Желаем удачи!

**Ответ:**

**Тема сочинения:** \_\_\_\_\_

---

---

---

---

---

---

---

---

---

---

---

---

---

---

---

---

---

---

---

---

---

---

---

---

---

---